



Teste pentru proba teoretică  
Campionatul Național de Turism Sportiv  
“Ștafeta Munților”  
Etapa a VII- a, 6 - 8.09.2019  
*Trofeul “Pro-Parâng” Ediția a V- a*



1. Creasta principală a masivului Vâlcan are o lungime de:

- a) 72 km;    **b) 55km;**    c) 50 km;

2. Munții Vâlcan se află la sud de:

- a) Munții Șureanu; b) Munții Parâng; **c) Munții Retezat;**

3. Înotătorul din imagine este:



- a) Castor (Castor fiber);    **b) Vidra (Lutra lutra);**    c) Bizam (Ondrata zibethicus);

4. Parcul Național Defileul Jiului se află într-o zonă care face parte din:

- a) Munții Parâng și Munții Șureanu;  
b) Munții Retezat și Munții Parâng;  
**c) Munții Parâng și Munții Vâlcan;**

5. Care este înălțimea vf. Straja?

- a) 1858m;    b) 1968m;    **c) 1868 m;**

6. Vârful din imagine pe care îl zărim de pe creasta Oslei este:



- a) Vf. Piule;      b) Vf. Paltina;      **c) Vf. Pietra Iorgovanului;**

**7. Creasta Oslei se află pe teritoriul județului:**

- a) Gorj;**      b) Hunedoara;      c) Mehedinți;

**8. Stâna din imagine se numește:**



- a) Stâna Stârbu;      **b) Stâna Ursului;**      c) Stâna Scorota ;

**9. Muntele Oslea componentă a Munților Vâlcan este:**

- a) Sit Natura 2000;      b) Parc Național;      **c) Arie naturală protejată;**

**10. Imaginea de mai jos reprezintă un:**



a) Cerb (*Cervus elaphus*); **b) Căprior (*capreolus capreolus*);** c) Cerb lopatar (*Dama dama*);

**11. Stațiunea de schi din imagine poartă numele de:**



**a) Stațiune Straja;** b) Stațiunea Pasul Vulcan; c) Stațiunea Râșor;

**12. Cine este autorul volumului M-ții Vâlcan din colecția M-ții Noștrii?**

a) Gheorghe Ploaie; **b) Nae Popescu;** c) George Popescu;

**13. Care este codul de semnalizare în caz de pericol pe munte?**

**a) 6 semnale, din 10 in 10 secunde, timp de un minut;**


b) 4 semnale, din 15 in 15 secunde, timp de un minut;

c) 3 semnale, din 20 in 20 secunde, timp de un minut;

**14. Cum se numește unghiul format dintre o direcție și direcția Nordul geografic?**

a) orientare; b) triunghi; **c) azimut;**

**15. Ce vârf din Munții Vâlcan se află în imagine?**



a) Vf. Cândet; b) Vf. Oslea; c) **Vf. Straja;**

**16. Ce plantă este prezentată în imaginea de mai jos:**



a) Cimbrisor(*thymus serpyllum*);

b) Afin (*Vaccinium myrtillus*)


c) Coacaza (*Bruckenthalia spiculifolia*)

17. Ce reprezintă imaginea de mai jos:



a) Creasta principală Parâng; b) Vârful Pietra Iorgovanului; c) **Creasta Oslea;**

18. Pasărea din imagine se numește:



a) **Huhurez mare (*Strix uralensis*);** b) Bufnita (*Bubo bubo*); c) Cucuvea (*Athene noctua*);

19. Râul care separă Munții Vâlcan de Munții Parâng se numește:

a) Râul Strei;    b) Râul Oltet;    **c) Râul Jiu;**

**20. Ciupercile din imagine se numesc popular:**



a) Champinioni;    **b) Ciuperci de piatră;**    c) Ghebe;

**21. Vipera din imagine aparține speciei...**



**a) Vipera comună (berus berus);**

b) Vipera cu corn (ammodytes ammodytes);


c) Vipera de fâneață (ursinii rakosiensis);

**22. Cum se numesc florile din imagine?**



a) Flori de piatră;      b) Albăstrele;      c) **Gențiene;**

23. Cum se numește orașul din imagine, aflat la poalele Munților Vâlcan?



a) **Vulcan;**      b) Lupeni;      c) Uricani;

24. Unde se află statuile din imagine?



a) **Pasul Vulcan;**      b) Pasul Urdele;      c) Pasul Cerna;

25. Din ce roci este alcătuită stânca din imagine ?



a) Bazalte;      b) **Calcare;**      c) Granite;

26. Vârful Oslea are înălțimea de:

- a) 1935 m;      b) 1997m;      c) 1953m;

27. Imaginea de mai jos reprezintă:



a) Casa de vânătoare Câmpușel;

b) **Camping Valea Iarului;**

c) Poiana Pelegii;

28. Cum se numește șarpele din imagine, confundat de multe ori cu vipera?



a) **Șarpele de alun;**      b) Năpârca;      c) Șarpele de casă;

29. Temperatura medie anuală pe Culmea Oslea este:

- a) 5-6 °C;      b) **1-2 °C;**      c) 0-2 °C;

30. Drumul Național DN66A ce face legătura spre Valea Cernei – Herculane este amenajat și asfaltat până la:

- a) Câmpul lui Neag;      b) **Zona Câmpușel;**      c) Pasul Jiu – Cerna;